

ΜΑΘΗΜΑ: ΜΑΘΗΜΑΤΙΚΑ
ΤΑΞΗ: Α
ΕΝΟΤΗΤΑ: ΕΠΑΝΑΛΗΠΤΙΚΟ 1
ΟΝΟΜΑ:



1. Συμπληρώνω τους αριθμούς που λείπουν για να σχηματιστούν οι σειρές

18		20	
----	--	----	--

	40		42
--	----	--	----


	25		27
--	----	--	----

19			22
----	--	--	----


47			50
----	--	--	----

		31	32
--	--	----	----


2. Μετρώ και κυκλώνω όσα λέει ο αριθμός:




25



37




18



43



3. Κάθε κουτί έχει **10** σπύρτα. Ζωγράφισε πόσα είναι έξω από το κουτί, αν ο αριθμός πάνω στο κουτί δείχνει πόσα έχουν μείνει μέσα σε αυτό.



4. Κάνω τις παρακάτω πράξεις:

$5 + 2 = \dots\dots\dots$

$5 + 5 = \dots\dots\dots$

$9 - 4 = \dots\dots\dots$

$9 - 3 = \dots\dots\dots$

$4 + 6 = \dots\dots\dots$

$6 + 3 = \dots\dots\dots$

$10 - 2 = \dots\dots\dots$

$7 + 1 = \dots\dots\dots$

$8 - 5 = \dots\dots\dots$

$5 - 3 = \dots\dots\dots$

5. Ο Φάνης έχει 10 βόλους και έδωσε στον Άρη τους 3. Πόσοι του **έμειναν**;

Λύση:

$$\square \quad \square = \square$$

Απάντηση: Του έμειναν βόλοι.

6. Η Άννα έχει 5 ευρώ και η γιαγιά της έδωσε άλλα 4 ευρώ. Πόσα χρήματα έχει **συνολικά**;

Λύση:

$$\square \quad \square = \square$$

Απάντηση: Συνολικά έχει ευρώ.